

Пояснительная записка

Изучение астрономии на базовом уровне среднего (полного) общего образования направлено на достижение следующих целей:

1. осознание принципиальной роли астрономии в познании фундаментальных законов природы и формировании современной естественно-научной картины мира;
2. приобретение знаний о физической природе небесных тел и систем, строения и эволюции Вселенной, пространственных и временных масштабах Вселенной, наиболее важных астрономических открытиях, определивших развитие науки и техники;
3. овладение умениями объяснять видимое положение и движение небесных тел принципами определения местоположения и времени по астрономическим объектам, навыками практического использования компьютерных приложений для определения вида звездного неба в конкретном пункте для заданного времени;
4. развитие познавательных интересов, интеллектуальных и творческих способностей в процессе приобретения знаний по астрономии с использованием различных источников информации и современных информационных технологий;
5. использование приобретенных знаний и умений для решения практических задач повседневной жизни;
6. формирование научного мировоззрения;
7. формирование навыков использования естественно-научных и особенно физико-математических знаний для объективного анализа устройства окружающего мира на примере достижений современной астрофизики, астрономии и космонавтики.

Главная задача курса — дать учащимся целостное представление о строении и эволюции Вселенной, раскрыть перед ними астрономическую картину мира XXI в. Отсюда следует, что основной упор при изучении астрономии должен быть сделан на вопросы астрофизики, внегалактической астрономии, космогонии и космологии.

Планируемые результаты освоения учебного предмета «Астрономия»

1. Личностные результаты в сфере отношений обучающихся к себе, к своему здоровью, к познанию себя:

- ориентация обучающихся на достижение личного счастья, реализацию позитивных жизненных перспектив, инициативность, креативность, готовность и способность к личностному самоопределению, способность ставить цели и строить жизненные планы;
- готовность и способность обеспечить себе и своим близким достойную жизнь в процессе самостоятельной, творческой и ответственной деятельности;
- готовность и способность обучающихся к саморазвитию и самовоспитанию в соответствии с общечеловеческими ценностями и идеалами гражданского общества;
- принятие и реализация ценностей здорового и безопасного образа жизни, бережное, ответственное и компетентное отношение к собственному физическому и психологическому здоровью.

2. Личностные результаты в сфере отношений обучающихся к России как к Родине (Отечеству):

- российская идентичность, способность к осознанию российской идентичности в поликультурном социуме, чувство причастности к историко-культурной общности русского народа и судьбе России, патриотизм;
- уважение к своему народу, чувство ответственности перед Родиной, гордости за свой край, свою Родину.

3. Личностные результаты в сфере отношений обучающихся к закону, государству и к гражданскому обществу:

- мировоззрение, соответствующее современному уровню развития науки и общественной практики, основанное на диалоге культур, а также различных форм общественного сознания, осознание своего места в поликультурном мире;
- интериоризация ценностей демократии и социальной солидарности, готовность к договорному регулированию отношений в группе или социальной организации;
- готовность обучающихся к конструктивному участию в принятии решений, затрагивающих их права и интересы, в том числе в различных формах общественной самоорганизации, самоуправления, общественно значимой деятельности.

4. Личностные результаты в сфере отношений обучающихся с окружающими людьми:

- нравственное сознание и поведение на основе усвоения общечеловеческих ценностей, толерантного сознания и поведения в поликультурном мире, готовности и способности вести диалог с другими людьми, достигать в нем взаимопонимания, находить общие цели и сотрудничать для их достижения;

- принятие гуманистических ценностей, осознанное, уважительное и доброжелательное отношение к другому человеку, его мнению, мировоззрению;
- способность к сопереживанию и формирование позитивного отношения к людям, в том числе к лицам с ограниченными возможностями здоровья и инвалидам; бережное, ответственное и компетентное отношение к физическому и психологическому здоровью других людей, умение оказывать первую помощь;
- развитие компетенций сотрудничества со сверстниками, детьми младшего возраста, взрослыми в образовательной, общественно полезной, учебно-исследовательской, проектной и других видах деятельности.

5. Личностные результаты в сфере отношений обучающихся к окружающему миру, живой природе, художественной культуре:

- мировоззрение, соответствующее современному уровню развития науки, значимости науки, готовность к научно-техническому творчеству, владение достоверной информацией о передовых достижениях и открытиях мировой и отечественной науки, заинтересованность в научных знаниях об устройстве мира и общества;
- готовность и способность к образованию, в том числе самообразованию, на протяжении всей жизни; сознательное отношение к непрерывному образованию как условию успешной профессиональной и общественной деятельности;
- экологическая культура, бережное отношения к родной земле, природным богатствам России и мира; понимание влияния социально-экономических процессов на состояние природной и социальной среды, ответственность за состояние природных ресурсов; умения и навыки разумного природопользования, нетерпимое отношение к действиям, приносящим вред экологии; приобретение опыта эколого-направленной деятельности.

6. Личностные результаты в сфере отношений обучающихся к семье и родителям, в том числе подготовка к семейной жизни:

- положительный образ семьи, родительства (отцовства и материнства), интериоризация традиционных семейных ценностей.

7. Личностные результаты в сфере отношения обучающихся к труду, в сфере социально-экономических отношений:

- осознанный выбор будущей профессии как путь и способ реализации собственных жизненных планов;
- потребность трудиться, уважение к труду и людям труда, трудовым достижениям, добросовестное, ответственное и творческое отношение к разным видам трудовой деятельности.

8. Личностные результаты в сфере физического, психологического, социального и академического благополучия обучающихся:

- физическое, эмоционально-психологическое, социальное благополучие обучающихся в жизни образовательной организации, ощущение детьми безопасности и психологического комфорта, информационной безопасности.

Планируемые метапредметные результаты

1. Регулятивные универсальные учебные действия

Выпускник научится:

- самостоятельно определять цели, задавать параметры и критерии, по которым можно определить, что цель достигнута;
- оценивать возможные последствия достижения поставленной цели в деятельности, собственной жизни и жизни окружающих людей, основываясь на соображениях этики и морали;
- ставить и формулировать собственные задачи в образовательной деятельности и жизненных ситуациях;
- оценивать ресурсы, в том числе время и другие нематериальные ресурсы, необходимые для достижения поставленной цели;
- выбирать путь достижения цели, планировать решение поставленных задач, оптимизируя материальные и нематериальные затраты;
- организовывать эффективный поиск ресурсов, необходимых для достижения поставленной цели;
- сопоставлять полученный результат деятельности с поставленной заранее целью.

2. Познавательные универсальные учебные действия

Выпускник научится:

- искать и находить обобщенные способы решения задач, в том числе, осуществлять развернутый информационный поиск и ставить на его основе новые (учебные и познавательные) задачи;
- критически оценивать и интерпретировать информацию с разных позиций, распознавать и фиксировать противоречия в информационных источниках;
- использовать различные модельно-схематические средства для представления существенных связей и отношений, а также противоречий, выявленных в информационных источниках;

находить и приводить критические аргументы в отношении действий и суждений другого; спокойно и разумно относиться к критическим замечаниям в отношении собственного суждения, рассматривать их как ресурс собственного развития;

выходить за рамки учебного предмета и осуществлять целенаправленный поиск возможностей для широкого переноса средств и способов действия;

выстраивать индивидуальную образовательную траекторию, учитывая ограничения со стороны других участников и ресурсные ограничения;

менять и удерживать разные позиции в познавательной деятельности.

3. Коммуникативные универсальные учебные действия

Выпускник научится:

осуществлять деловую коммуникацию как со сверстниками, так и со взрослыми (как внутри образовательной организации, так и за ее пределами), подбирать партнеров для деловой коммуникации исходя из соображений результативности взаимодействия, а не личных симпатий;

при осуществлении групповой работы быть как руководителем, так и членом команды в разных ролях (генератор идей, критик, исполнитель, выступающий, эксперт и т.д.);

координировать и выполнять работу в условиях реального, виртуального и комбинированного взаимодействия;

развернуто, логично и точно излагать свою точку зрения с использованием адекватных (устных и письменных) языковых средств;

распознавать конфликтогенные ситуации и предотвращать конфликты до их активной фазы, выстраивать деловую и образовательную коммуникацию, избегая личностных оценочных суждений.

Планируемые предметные результаты

Результаты базового уровня ориентированы на общую функциональную грамотность, получение компетентностей для повседневной жизни и общего развития. Эта группа результатов предполагает:

– понимание предмета, ключевых вопросов и основных составляющих элементов изучаемой предметной области, что обеспечивается не за счет заучивания определений и правил, а посредством моделирования и постановки проблемных вопросов культуры, характерных для данной предметной области;

– умение решать основные практические задачи, характерные для использования методов и инструментария данной предметной области;

– осознание рамок изучаемой предметной области, ограниченности методов и инструментов, типичных связей с некоторыми другими областями знания.

В результате изучения учебного предмета «Астрономия» на уровне среднего общего образования:

Выпускник научится:

• указывать названия планет Солнечной системы; различать основные признаки суточного вращения звездного неба, движения Луны, Солнца и планет относительно звезд;

• понимать различия между гелиоцентрической и геоцентрической системами мира;

Выпускник получит возможность научиться:

• указывать общие свойства и отличия планет земной группы и планет-гигантов; малых тел Солнечной системы и больших планет; пользоваться картой звездного неба при наблюдениях звездного неба;

• различать основные характеристики звезд (размер, цвет, температура) соотносить цвет звезды с ее температурой;

• различать гипотезы о происхождении Солнечной системы

Содержание учебного предмета

Предмет астрономии

Роль астрономии в развитии цивилизации. Эволюция взглядов человека на Вселенную. Геоцентрическая и гелиоцентрическая системы. Особенности методов познания в астрономии. Практическое применение астрономических исследований. История развития отечественной космонавтики. Первый искусственный спутник Земли, полет Ю.А. Гагарина. Достижения современной космонавтики.

Основы практической астрономии

Небесная сфера. Особые точки небесной сферы. Небесные координаты. Звездная карта, созвездия, использование компьютерных приложений для отображения звездного неба. Видимая звездная величина. Суточное движение светил. Связь видимого расположения объектов на небе и географических координат наблюдателя. Движение Земли вокруг Солнца. Видимое движение и фазы Луны. Солнечные и лунные затмения. Время и календарь.

Законы движения небесных тел

Структура и масштабы Солнечной системы. Конфигурация и условия видимости планет. Методы определения расстояний до тел Солнечной системы и их размеров. Небесная механика. Законы Кеплера. Определение масс небесных тел. Движение искусственных небесных тел.

Солнечная система

Происхождение Солнечной системы. Система Земля - Луна. Планеты земной группы. Планеты-гиганты. Спутники и кольца планет. Малые тела Солнечной системы. Астероидная опасность.

Методы астрономических исследований

Электромагнитное излучение, космические лучи и гравитационные волны как источник информации о природе и свойствах небесных тел. Наземные и космические телескопы, принцип их работы. Космические аппараты. Спектральный анализ. Эффект Доплера. Закон смещения Вина. Закон Стефана-Больцмана.

Звезды

Звезды: основные физико-химические характеристики и их взаимная связь. Разнообразие звездных характеристик и их закономерности. Определение расстояния до звезд, параллакс. Двойные и кратные звезды. Внесолнечные планеты. Проблема существования жизни во Вселенной. Внутреннее строение и источники энергии звезд. Происхождение химических элементов. Переменные и вспыхивающие звезды. Коричневые карлики. Эволюция звезд, ее этапы и конечные стадии. Строение Солнца, солнечной атмосферы. Проявления солнечной активности: пятна, вспышки, протуберанцы. Периодичность солнечной активности. Роль магнитных полей на Солнце. Солнечно-земные связи.

Наша Галактика - Млечный Путь

Состав и структура Галактики. Звездные скопления. Межзвездный газ и пыль. Вращение Галактики. Темная материя.

Галактики. Строение и эволюция Вселенной

Открытие других галактик. Многообразие галактик и их основные характеристики. Сверхмассивные черные дыры и активность галактик. Представление о космологии. Красное смещение. Закон Хаббла. Эволюция Вселенной. Большой Взрыв. Реликтовое излучение. Темная энергия.

Тематическое планирование с требованиями к уровню подготовки обучающихся:

№ п/п	Тема	Кол-во часов	В том числе	
			Контрольная работа	Самостоятельные работы
1	Предмет астрономии	1		
2	Основы практической астрономии	5		1
3	Законы движения небесных тел	3		1
4	Солнечная система	6	1	
5	Методы астрономических исследований	8		1
6	Звезды	3		1
7	Наша Галактика - Млечный Путь	3		1
8	Галактики. Строение и эволюция Вселенной	2		1
9	Повторение. Итоговая контрольная работа.	4	1	
	Итого:	35		

Тематический план

№	№ урока в разделе	Тема урока
Предмет астрономии (1 ч)		
1	1	Роль астрономии в развитии цивилизации. Эволюция взглядов человека на Вселенную. Геоцентрическая и гелиоцентрическая системы.

		Особенности методов познания в астрономии. Практическое применение астрономических исследований. История развития отечественной космонавтики. Первый искусственный спутник Земли, полет Ю.А. Гагарина. Достижения современной космонавтики.
Основы практической астрономии (5 ч)		
2	1	Небесная сфера. Особые точки небесной сферы
3	2	Небесные координаты. Звездная карта, созвездия, использование компьютерных приложений для отображения звездного неба. Видимая звездная величина.
4	3	Суточное движение светил. Связь видимого расположения объектов на небе и географических координат наблюдателя.
5	4	Движение Земли вокруг Солнца. Видимое движение и фазы Луны. Солнечные и лунные затмения.
6	5	Время и календарь.
Законы движения небесных тел (3 ч)		
7	1	Структура и масштабы Солнечной системы. Конфигурация и условия видимости планет. Методы определения расстояний до тел Солнечной системы и их размеров.
8	2	Небесная механика. Законы Кеплера
9	3	Определение масс небесных тел. Движение искусственных небесных тел.
Солнечная система (6 ч)		
10	1	Происхождение Солнечной системы
11	2	Система Земля - Луна.
12	3	Планеты земной группы
13	4	Планеты-гиганты. Спутники и кольца планет.
14	5	Малые тела Солнечной системы. Астероидная опасность.
15	6	Контрольная работа за 1 полугодие
Методы астрономических исследований (8 ч)		
16 17	1,2	Анализ результатов контрольной работы. Работа над ошибками. Электромагнитное излучение, космические лучи и гравитационные волны как источник информации о природе и свойствах небесных тел.
18	3	Наземные и космические телескопы, принцип их работы.
19	4	Космические аппараты.
20	5	Спектральный анализ.
21	6	Эффект Доплера.
22	7	Закон смещения Вина.
23	8	Закон Стефана-Больцмана.
Звезды (3 ч)		

24	1	Звезды: основные физико-химические характеристики и их взаимная связь. Разнообразие звездных характеристик и их закономерности. Определение расстояния до звезд, параллакс. Двойные и кратные звезды.
25	2	Внесолнечные планеты. Проблема существования жизни во Вселенной. Внутреннее строение и источники энергии звезд. Происхождение химических элементов. Переменные и вспыхивающие звезды. Коричневые карлики. Эволюция звезд, ее этапы и конечные стадии.
26	3	Строение Солнца, солнечной атмосферы. Проявления солнечной активности: пятна, вспышки, протуберанцы. Периодичность солнечной активности. Роль магнитных полей на Солнце. Солнечно-земные связи.
Наша Галактика - Млечный Путь (3 ч)		
27	1	Состав и структура Галактики.
28	2	Звездные скопления. Межзвездный газ и пыль.
29	3	Вращение Галактики. Темная материя.
Галактики. Строение и эволюция Вселенной (2 ч)		
30	1	Открытие других галактик. Многообразие галактик и их основные характеристики. Сверхмассивные черные дыры и активность галактик. Представление о космологии.
31	2	Красное смещение. Закон Хаббла. Эволюция Вселенной. Большой Взрыв. Реликтовое излучение. Темная энергия.
Повторение (4 ч)		
32	1	Повторение тем «Предмет астрономии», «Основы практической астрономии», «Законы движения небесных тел»
33	2	Повторение тем «Солнечная система», «Методы астрономических исследований»
34	3	Итоговая контрольная работа
35	4	Повторение тем «Звезды», «Наша Галактика - Млечный Путь», «Галактики. Строение и эволюция Вселенной».

Перечень учебно-методического обеспечения:

- для учителя

УЧЕБНИК: Астрономия. 10-11 классы: учеб. для общеобразоват. организаций: базовый уровень/ В.М. Чаругин. - М. : Просвещение, 2017.-144с

-для ученика

УЧЕБНИК: Астрономия. 10-11 классы: учеб. для общеобразоват. организаций: базовый уровень/ В.М. Чаругин. - М. : Просвещение, 2017.-144с

ИНТЕРНЕТ-РЕСУРСЫ:

1. <http://catalog.prosv.ru/item/28633>
2. <http://myastronomy.ru/>
3. <http://www.college.ru/astronomy/course/content/index.htm>

Критерии оценивания обучающихся

«5» учащийся показывает верное понимание физической сущности рассматриваемых явлений и закономерностей, законов и теорий, дает точное определение и истолкование основных понятий, законов, теорий, а также правильное определение астрономических величин, их единиц и способов измерения; правильно выполняет чертежи, схемы и графики; строит ответ по собственному плану, сопровождает рассказ новыми примерами, умеет применить знания в новой ситуации при выполнении практических заданий; может установить связь между изучаемым и ранее изученным материалом по курсу астрономии, а также с материалом, усвоенным при изучении других предметов.

«4» ответ ученика удовлетворяет основным требованиям к ответу на оценку «5», но дан без использования собственного плана, новых примеров, без применения знаний в новой ситуации, без использования связей с ранее изученным материалом и материалом, усвоенным при изучении других предметов; если учащийся допустил одну ошибку или не более двух недочётов и может их исправить самостоятельно или с небольшой помощью учителя.

«3» учащийся правильно понимает физическую сущность рассматриваемых явлений и закономерностей, но в ответе имеются отдельные пробелы в усвоении вопросов курса астрономии, не препятствующие дальнейшему усвоению программного материала; умеет применять полученные знания при решении простых задач с использованием готовых формул, но затрудняется при решении задач, требующих преобразования некоторых формул; допустил не более одной грубой ошибки и двух недочётов, не более одной грубой и одной негрубой ошибки, не более двух-трёх негрубых ошибок, одной негрубой ошибки и трёх недочётов; допустил четыре или пять недочётов.

«2» учащийся не овладел основными знаниями и умениями в соответствии с требованиями программы и допустил больше ошибок и недочётов, чем необходимо для оценки «3». «1» ученик не может ответить ни на один из поставленных вопросов.

ПЕРЕЧЕНЬ ОШИБОК

Тип ошибки

Параметр Грубые ошибки Незнание определений основных понятий, законов, правил, основных положений теории, формул, общепринятых символов обозначения астрономических величин, единиц их измерения. Неумение выделять в ответе главное. Неумение применять знания для решения задач и объяснения физических явлений; неправильно сформулированные вопросы задачи или неверные объяснения хода ее решения; незнание приемов решения задач, аналогичных ранее решенным в классе; ошибки, показывающие неправильное понимание условия задачи или неправильное истолкование решения. Неумение читать и строить графики и принципиальные схемы. Неумение подготовить к работе установку или лабораторное оборудование, провести опыт, необходимые расчеты, или использовать полученные данные для выводов.

Негрубые ошибки Неточности формулировок, определений, понятий, законов, теорий, вызванные неполнотой охвата основных признаков определяемого понятия; ошибки, вызванные несоблюдением условий проведения опыта или измерений. Ошибки в условных обозначениях на принципиальных схемах; неточности чертежей, графиков, схем. Пропуск или неточное написание наименований единиц астрономических величин. Нерациональный выбор хода решения. Недочеты Нерациональные записи при вычислениях, нерациональные приемы вычислений, преобразований и решений задач. Арифметические ошибки в вычислениях, если эти ошибки грубо не искажают реальность полученного результата. Отдельные погрешности в формулировке вопроса или ответа. Небрежное выполнение записей, чертежей, схем, графиков. Орфографические и пунктуационные ошибки

Оценка ставится на основании наблюдения за учащимися и письменного отчета за работу.

Оценка умений решать расчетные задачи

Оценка «5»: в логическом рассуждении и решении нет ошибок, задача решена рациональным способом.

Оценка «4»: в логическом рассуждении и решении нет существенных ошибок, но задача решена нерациональным способом или допущено не более двух существенных ошибок.

Оценка «3»: в логическом рассуждении нет существенных ошибок, но допущена существенная ошибка в математических расчетах.

Оценка «2»: имеются существенные ошибки в логическом рассуждении и в решении.

Оценка письменных контрольных работ.

Оценка 5 ставится за работу, выполненную полностью без ошибок и недочетов.

Оценка 4 ставится за работу, выполненную полностью, но при наличии не более одной ошибки и одного недочета, не более трех недочетов.

Оценка 3 ставится за работу, выполненную на 2/3 всей работы правильно или при допущении не более одной грубой ошибки, не более трех негрубых ошибок, одной негрубой ошибки и трех недочетов, при наличии четырех-пяти недочетов.

Оценка 2 ставится за работу, в которой число ошибок и недочетов превысило норму для оценки 3 или правильно выполнено менее 2/3 работы.

Оценка практических работ.

Оценка 5 ставится в том случае, если учащийся выполнил работу в полном объеме с соблюдением необходимой последовательности проведения опытов и измерений; самостоятельно и рационально монтирует необходимое оборудование; все опыты проводит в условиях и режимах, обеспечивающих получение правильных результатов и выводов; соблюдает требования правил безопасного труда; в отчете правильно и аккуратно выполняет все записи, таблицы, рисунки, чертежи, графики, вычисления, правильно выполняет анализ погрешностей.

Оценка 4 ставится в том случае, если учащийся выполнил работу в соответствии с требованиями к оценке 5, но допустил два-три недочета, не более одной негрубой ошибки и одного недочета.

Оценка 3 ставится в том случае, если учащийся выполнил работу не полностью, но объем выполненной части таков, что позволяет получить правильные результаты и выводы, если в ходе проведения опыта и измерений были допущены ошибки.

Оценка 2 ставится в том случае, если учащийся выполнил работу не полностью и объем выполненной работы не позволяет сделать правильные выводы, вычисления; наблюдения проводились неправильно.

Во всех случаях оценка снижается, если учащийся не соблюдал требований правил безопасного труда.

Итоговая контрольная работа за курс астрономии старшей школы

Пояснительная записка:

Разработка представляет собой итоговую контрольную работу по астрономии за курс старшей школы для учащихся 11 (10) классов. В каждой работе предложены 4 варианта, имеются инструкции и ключи.

Цель: контроль знаний и умений учащихся посредством выполнения заданий.

Тип урока: урок по проверке, оценке и коррекции знаний.

Кодификатор элементов содержания и структура контрольной работы:

Элемент содержания	Тип вопроса
Часть 1:	
1. Звезды и созвездия. Небесные координаты. ПКЗН.	задание с выбором ответа
2. Движение Луны и Солнца. Конфигурации планет.	задание с выбором ответа
3. Солнце и звезды. Виды звезд и их характеристики.	задание с выбором ответа
4. Строение Вселенной. Галактики.	задание с выбором ответа
Часть 2:	
5. Звезды и созвездия.	установление соответствия
6. Единицы измерения астрономических величин.	упорядочивание последовательности
7. Физические характеристики небесных тел.	задание с множественным выбором
8. Законы небесной механики.	задача с открытым ответом

Часть 3:	
9. Природа тел Солнечной системы.	качественный вопрос
10. Расстояния до небесных объектов. Угловые и линейные размеры небесных объектов.	задача с развернутым ответом

Итоговая контрольная работа по астрономии

Вариант № 1

Инструкция по выполнению работы

На выполнение контрольной работы по астрономии отводится 45 минут. Работа состоит из 3-х частей и включает 10 заданий.

Часть 1 содержит 4 задания (1–4). К каждому заданию приводится 4 варианта ответа, из которых только 1 верный. При выполнении задания части 1 в тетради для контрольных работ сделайте запись: «Часть 1», проставьте номера заданий по порядку и запишите номер выбранного ответа в контрольной работе. Если вы выбрали не тот номер, то зачеркните этот номер крестиком, а рядом поставьте номер правильного ответа.

Часть 2 включает 4 задания с кратким ответом (5–8). При выполнении заданий части 2 ответ записывается в тетради для контрольных работ. При этом делается запись: «Часть 2», проставляются номера заданий по порядку и записывается последовательность цифр ответа. В случае записи неверного ответа зачеркните его и запишите рядом новый.

Часть 3 содержит 2 задания (9–10), на которые следует дать развёрнутый ответ. Ответы на задания части 3 записываются в тетради для контрольных работ, после записи: «Часть 3». При выполнении заданий части 2 и 3 значение искомой величины следует записать в тех единицах, которые указаны в условии задания. Если такого указания нет, то значение величины следует записать в Международной системе единиц (СИ).

При вычислениях разрешается использовать непрограммируемый калькулятор.

При выполнении заданий можно пользоваться черновиком. Записи в черновике не учитываются при оценивании работы.

Советуем выполнять задания в том порядке, в котором они даны. С целью экономии времени пропускайте задание, которое не удаётся выполнить сразу, и переходите к следующему. Если после выполнения всей работы у вас останется время, то можно вернуться к пропущенным заданиям.

За каждый правильный ответ в «Части 1» дается 1 балл, в «Части 2» 1–2 балла, в «Части 3» – от 1 до 3 баллов. Баллы, полученные вами за все выполненные задания, суммируются. Максимальное количество баллов 18.

Отметка 5 ставится за более 88% выполненной работы (16–18 баллов).

Отметка 4 ставится за более 70% выполненной работы (13–15 баллов).

Отметка 3 ставится за более 55% выполненной работы (10–12 баллов).

Постарайтесь выполнить как можно больше заданий и набрать как можно большее количество баллов.

Желаем успеха!

Ниже приведены справочные данные, которые могут понадобиться вам при выполнении работы.

Наиболее важные величины, встречающиеся в астрономии	
Видимый угловой диаметр Солнца и Луны	0,5°
Продолжительность звездного года (период обращения Земли вокруг Солнца)	365 сут 5 ч 49 мин
Продолжительность синодического месяца (период изменения фаз Луны)	29,5 сут
Продолжительность звездного месяца (период обращения Луны вокруг Земли)	27,3 сут
Средний радиус Земли	6 370 км
Среднее расстояние от Земли до Луны	384 000 км
Среднее расстояние от Земли до Солнца	150 млн км
1 парсек	206265 а.е. = 3, 26 св. года = $3 \cdot 10^{13}$ км

Часть 1

К каждому из заданий 1-4 даны 4 варианта ответа, из которых только 1 правильный. Номер этого ответа запишите в тетради.

1. Какое из перечисленных созвездий **нельзя** наблюдать 15 октября в 20.00 в г. Нижний Новгород (широта 56^0)?

А) Лира
Б) Овен

В) Большой Пес
Г) Козерог

2. Как называется фаза Луны, изображенная на рисунке? В какое время суток Луна видна в этой фазе?

А) Первая четверть. Видна вечером.
Б) Последняя четверть. Видна утром.
В) Полулуние. Видна вечером.
Г) Полнолуние. Видна всю ночь.



3. К какому типу относятся две близко расположенные звезды, связанные силами тяготения и обращающиеся около общего центра масс?

А) Оптические двойные звезды
Б) Физические двойные звезды

В) Спектрально-двойные звезды
Г) Сверхновые звезды

4. Какой из перечисленных объектов лишний в этом списке:

А) Шаровое звездное скопление
Б) Галактика

В) Звездная ассоциация
Г) Созвездие



Часть 2



При выполнении заданий с кратким ответом (задания 5-8) необходимо записать ответ в указанном в тексте задания месте.

Ответом к каждому из заданий 5-7 будет некоторая последовательность цифр. В тетради запишите номер вопроса и последовательность цифр – номера выбранных ответов. Каждую цифру пишите в отдельной клеточке.

5.

Установите соответствие (логическую пару). К каждому названию созвездия, отмеченному буквой, выберите соответствующее изображение, обозначенное цифрой. Запишите в таблицу выбранные цифры под соответствующими буквами.

НАЗВАНИЕ СОЗВЕЗДИЯ	ИЗОБРАЖЕНИЕ
А. Пегас	1. 
Б. Лебедь	2. 
В. Орион	3.

			
Г. Кассиопея	4.		

Ответ:	А	Б	В	Г

6.

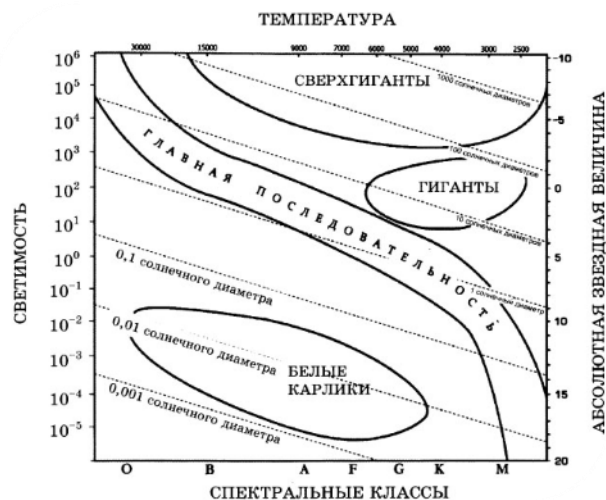
Расположите астрономические величины в порядке их **возрастания**. Запишите в таблицу получившуюся последовательность цифр ответа.

- 1) 200 а.е.
- 2) 12 пк
- 3) 500 000 000 км
- 4) 5 св. лет

Ответ:				
--------	--	--	--	--

7.

На рисунке представлена диаграмма Герцшпрунга – Рассела.



Выберите **два** утверждения о звездах, которые соответствуют диаграмме.

- 1) Температура звезд спектрального класса G в 2 раза выше температуры звезд спектрального класса A.
- 2) Звезда Бетельгейзе относится к сверхгигантам, поскольку ее радиус почти в 1 000 раз превышает радиус Солнца.
- 3) Плотность белых карликов существенно меньше средней плотности гигантов.
- 4) Звезда Антарес имеет температуру поверхности 3 300 K и относится к звездам спектрального класса A.
- 5) «Жизненный цикл» звезды спектрального класса K главной последовательности более длительный, чем звезды спектрального класса B главной последовательности.

Ответ:

--	--

Ответом к заданию 8 является число. В тетради запишите номер вопроса и полученный ответ. Каждую цифру пишите в отдельной клеточке. Единицы измерения астрономических величин писать не нужно.

8.

С каким периодом обращалась бы вокруг Солнца Земля, если бы масса Солнца была вдвое больше? Ответ выразите в годах и округлите до десятых.

Ответ: _____ г

Часть 3

Для ответа на задания части 3 (задания 9-10) используйте тетрадь для контрольных работ. Запишите сначала номер задания, а затем развернутый ответ на него.

Задание 9 представляет собой вопрос, на который необходимо дать письменный ответ. Полный ответ должен включать в себя не только ответ на вопрос, но и его развернутое логически связанное обоснование. При необходимости сделайте рисунок. Ответ записывайте четко и разборчиво.

9.

Почему небо голубого цвета, если главный источник света для Земли – Солнце, которое светит почти белым светом? Почему небо становится красным на закате и на восходе?

Для задания 10 необходимо записать полное решение, которое включает запись каткого условия задачи (Дано); рисунок; запись формул, применение которых необходимо и достаточно для решения задачи; а также математические преобразования и расчеты, приводящие к числовому ответу.

10.

Какой наименьший линейный диаметр должно иметь солнечное пятно, чтобы его можно было различить невооруженным глазом (при наблюдениях через специальный светофильтр), если разрешающая способность глаза равна $1'$. Ответ запишите в км.

Итоговая контрольная работа по астрономии

Вариант № 2

Инструкция по выполнению работы

На выполнение контрольной работы по астрономии отводится 45 минут. Работа состоит из 3-х частей и включает 10 заданий.

Часть 1 содержит 4 задания (1–4). К каждому заданию приводится 4 варианта ответа, из которых только 1 верный. При выполнении задания части 1 в тетради для контрольных работ сделайте запись: «Часть 1», проставьте номера заданий по порядку и запишите номер выбранного ответа в контрольной работе. Если вы выбрали не тот номер, то зачеркните этот номер крестиком, а рядом поставьте номер правильного ответа.

Часть 2 включает 4 задания с кратким ответом (5–8). При выполнении заданий части 2 ответ записывается в тетради для контрольных работ. При этом делается запись: «Часть 2», проставляются номера заданий по порядку и записывается последовательность цифр ответа. В случае записи неверного ответа зачеркните его и запишите рядом новый.

Часть 3 содержит 2 задания (9–10), на которые следует дать развернутый ответ. Ответы на задания части 3 записываются в тетради для контрольных работ, после записи: «Часть 3». При выполнении заданий части 2 и 3 значение искомой величины следует записать в тех единицах, которые указаны в условии задания. Если такого указания нет, то значение величины следует записать в Международной системе единиц (СИ).

При вычислениях разрешается использовать непрограммируемый калькулятор.

При выполнении заданий можно пользоваться черновиком. Записи в черновике не учитываются при оценивании работы.

Советуем выполнять задания в том порядке, в котором они даны. С целью экономии времени пропускайте задание, которое не удаётся выполнить сразу, и переходите к следующему. Если после выполнения всей работы у вас останется время, то можно вернуться к пропущенным заданиям.

За каждый правильный ответ в «Части 1» дается 1 балл, в «Части 2» 1–2 балла, в «Части 3» – от 1 до 3 баллов. Баллы, полученные вами за все выполненные задания, суммируются. Максимальное количество баллов 18.

Отметка 5 ставится за более 88% выполненной работы (16–18 баллов).

Отметка 4 ставится за более 70% выполненной работы (13–15 баллов).

Отметка 3 ставится за более 55% выполненной работы (10–12 баллов).

Постарайтесь выполнить как можно больше заданий и набрать как можно большее количество баллов.

Желаем успеха!

Ниже приведены справочные данные, которые могут понадобиться вам при выполнении работы.

Наиболее важные величины, встречающиеся в астрономии	
Видимый угловой диаметр Солнца и Луны	0,5°
Продолжительность звездного года (период обращения Земли вокруг Солнца)	365 сут 5 ч 49 мин
Продолжительность синодического месяца (период изменения фаз Луны)	29,5 сут
Продолжительность звездного месяца (период обращения Луны вокруг Земли)	27,3 сут
Средний радиус Земли	6 370 км
Среднее расстояние от Земли до Луны	384 000 км
Среднее расстояние от Земли до Солнца	150 млн км
1 парсек	206265 а.е. = 3, 26 св. года = $3 \cdot 10^{13}$ км

Часть 1

К каждому из заданий 1-4 даны 4 варианта ответа, из которых только 1 правильный. Номер этого ответа запишите в тетради.

1.

В каком созвездии находится галактика M31 ($\alpha = 0^h40^m$, $\delta = +41^\circ$)?

А) Треугольник
Б) Андромеда

В) Пегас
Г) Скульптор

2.

Укажите, какой из следующих фактов опровергает гипотезу о неподвижности Земли и движении Солнца вокруг нее.

А) Ежедневная кульминация Солнца.
Б) Движение звезд, наблюдаемое в течение ночи.
В) Движение Солнца на фоне звезд, происходящее в течение года.
Г) Ни один из этих фактов.

3.


На каком расстоянии должна находиться звезда, чтобы ее видимая звездная величина была равна абсолютной звездной величине?

А) 1 пк
Б) 10 пк

В) 100 пк
Г) 1000 пк

4.

На какой картинке изображена Наша Галактика – Млечный Путь?



А)



Б)




Часть 2




При выполнении заданий с кратким ответом (задания 5-8) необходимо записать ответ в указанном в тексте задания месте.

Ответом к каждому из заданий 5-7 будет некоторая последовательность цифр. В тетради запишите номер вопроса и последовательность цифр – номера выбранных ответов. Каждую цифру пишите в отдельной клеточке.

5.

Установите соответствие (логическую пару). К каждому названию созвездия, отмеченному буквой, выберите соответствующее изображение, обозначенное цифрой. Запишите в таблицу выбранные цифры под соответствующими буквами.

НАЗВАНИЕ СОЗВЕЗДИЯ	ИЗОБРАЖЕНИЕ
А. Орел	1. 
Б. Большая Медведица	2.

			
В. Цефей	3.		
Г. Дракон	4.		

Ответ:	А	Б	В	Г

6.

Расположите угловые координаты светил в порядке их **возрастания**. Запишите в таблицу получившуюся последовательность цифр ответа.

- 1) $15^{\text{ч}}12^{\text{м}}$
- 2) $5^{\text{ч}}24^{\text{м}}$
- 3) 90^0
- 4) $89^040'$

Ответ:				
--------	--	--	--	--

7.

Рассмотрите таблицу, содержащую сведения о ярких звездах:

Наименование звезды	Температура, К	Масса (в массах Солнца)	Радиус (в радиусах Солнца)	Плотность по отношению к плотности воды
Антарес	3 300	18	560	$1,5 \cdot 10^{-7}$
Арктур	4 100	4,2	26	$3 \cdot 10^{-4}$
Вега	9 500	2,8	3,0	0,14
Сириус В	8 200	1	$2 \cdot 10^{-2}$	$1,75 \cdot 10^6$
Ригель	11 200	40	138	$2 \cdot 10^{-5}$
α Центавра	5 730	1,02	1,2	0,80
70 Змееносца	4 900	0,8	0,89	2,2
40 Эридана	10 000	0,44	$1,7 \cdot 10^{-2}$	$1,25 \cdot 10^8$

Выберите **два** утверждения, которые соответствуют характеристикам звезд.

- 1) Звезды Антарес и Ригель являются сверхгигантами.
- 2) Звезда Арктур относится к голубым звездам спектрального класса О.
- 3) Звезда Сириус В относится к звездам главной последовательности на диаграмме Герцшпрунга-Рассела.
- 4) Температура поверхности Веги ниже температуры поверхности Солнца.
- 5) Звезда 40 Эридана относится к белым карликам.

Ответ:

--	--

Ответом к заданию 8 является число. В тетради запишите номер вопроса и полученный ответ. Каждую цифру пишите в отдельной клеточке. Единицы измерения астрономических величин писать не нужно.

8.

Вычислите большую полуось планеты Марс, если ее синодический период равен 780 сут. Ответ выразите в астрономических единицах и округлите до десятых.

Ответ: _____ а.е.

Часть 3

Для ответа на задания части 3 (задания 9-10) используйте тетрадь для контрольных работ. Запишите сначала номер задания, а затем развернутый ответ на него.

Задание 9 представляет собой вопрос, на который необходимо дать письменный ответ. Полный ответ должен включать в себя не только ответ на вопрос, но и его развернутое логически связанное обоснование. При необходимости сделайте рисунок. Ответ записывайте четко и разборчиво.

9.

Чем объясняется отсутствие атмосферы у планеты Меркурий?

Для задания 10 необходимо записать полное решение, которое включает запись краткого условия задачи (Дано); рисунок; запись формул, применение которых необходимо и достаточно для решения задачи; а также математические преобразования и расчеты, приводящие к числовому ответу.

10.

Какой угловой диаметр должно иметь солнечное пятно, чтобы его линейный диаметр равнялся радиусу Земли? Ответ запишите в угловых секундах.

Итоговая контрольная работа по астрономии

Вариант № 3

Инструкция по выполнению работы

На выполнение контрольной работы по астрономии отводится 45 минут. Работа состоит из 3-х частей и включает 10 заданий.

Часть 1 содержит 4 задания (1–4). К каждому заданию приводится 4 варианта ответа, из которых только 1 верный. При выполнении задания части 1 в тетради для контрольных работ сделайте запись: «Часть 1», проставьте номера заданий по порядку и запишите номер выбранного ответа в контрольной работе. Если вы выбрали не тот номер, то зачеркните этот номер крестиком, а рядом поставьте номер правильного ответа.

Часть 2 включает 4 задания с кратким ответом (5–8). При выполнении заданий части 2 ответ записывается в тетради для контрольных работ. При этом делается запись: «Часть 2», проставляются номера заданий по порядку и записывается последовательность цифр ответа. В случае записи неверного ответа зачеркните его и запишите рядом новый.

Часть 3 содержит 2 задания (9–10), на которые следует дать развёрнутый ответ. Ответы на задания части 3 записываются в тетради для контрольных работ, после записи: «Часть 3». При выполнении заданий части 2 и 3 значение искомой величины следует записать в тех единицах, которые указаны в условии задания. Если такого указания нет, то значение величины следует записать в Международной системе единиц (СИ).

При вычислениях разрешается использовать непрограммируемый калькулятор.

При выполнении заданий можно пользоваться черновиком. Записи в черновике не учитываются при оценивании работы.

Советуем выполнять задания в том порядке, в котором они даны. С целью экономии времени пропускайте задание, которое не удаётся выполнить сразу, и переходите к следующему. Если после выполнения всей работы у вас останется время, то можно вернуться к пропущенным заданиям.

За каждый правильный ответ в «Части 1» дается 1 балл, в «Части 2» 1–2 балла, в «Части 3» – от 1 до 3 баллов. Баллы, полученные вами за все выполненные задания, суммируются. Максимальное количество баллов 18.

Отметка 5 ставится за более 88% выполненной работы (16–18 баллов).

Отметка 4 ставится за более 70% выполненной работы (13–15 баллов).

Отметка 3 ставится за более 55% выполненной работы (10–12 баллов).

Постарайтесь выполнить как можно больше заданий и набрать как можно большее количество баллов.

Желаем успеха!

Ниже приведены справочные данные, которые могут понадобиться вам при выполнении работы.

Наиболее важные величины, встречающиеся в астрономии	
Видимый угловой диаметр Солнца и Луны	0,5°
Продолжительность звездного года (период обращения Земли вокруг Солнца)	365 сут 5 ч 49 мин
Продолжительность синодического месяца (период изменения фаз Луны)	29,5 сут
Продолжительность звездного месяца (период обращения Луны вокруг Земли)	27,3 сут
Средний радиус Земли	6 370 км
Среднее расстояние от Земли до Луны	384 000 км
Среднее расстояние от Земли до Солнца	150 млн км
1 парсек	206265 а.е. = 3, 26 св. года = $3 \cdot 10^{13}$ км

Часть 1

К каждому из заданий 1-4 даны 4 варианта ответа, из которых только 1 правильный. Номер этого ответа запишите в тетради.

1.

Какой объект имеет экваториальные координаты $\alpha = 15^h 12^m$, $\delta = -9^\circ$?

А) δ Змеи

В) β Весов

Б) α Волопаса

Г) δ Скорпиона

2.

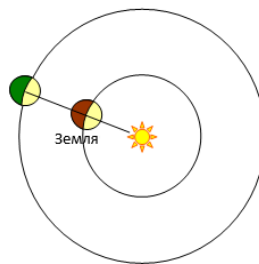
Как называется конфигурация планет, изображенная на рисунке? В какое время суток можно наблюдать такую конфигурацию?

А) Соединение. Планета видна на небе всю ночь.

Б) Восточная квадратура. Планета видна вечером.

В) Восточная квадратура. Планета видна утром.

Г) Противостояние. Планета видна на небе всю ночь.



3.

Где располагается Солнце на диаграмме «спектр-светимость»?

А) На главной последовательности

Б) На последовательности красных гигантов

В) На последовательности белых карликов

Г) На последовательности сверхгигантов

4.

Какова структура нашей Галактики (согласно классификации Хаббла)?

А) Эллиптическая

В) Линзовидная

Б) Неправильная

Г) Спиральная





Часть 2


При выполнении заданий с кратким ответом (задания 5-8) необходимо записать ответ в указанном в тексте задания месте.

Ответом к каждому из заданий 5-7 будет некоторая последовательность цифр. В тетради запишите номер вопроса и последовательность цифр – номера выбранных ответов. Каждую цифру пишите в отдельной клеточке.

5.

Установите соответствие (логическую пару). К каждому названию созвездия, отмеченному буквой, выберите соответствующее изображение, обозначенное цифрой. Запишите в таблицу выбранные цифры под соответствующими буквами.

НАЗВАНИЕ СОЗВЕЗДИЯ	ИЗОБРАЖЕНИЕ
А. Малая Медведица	1. 
Б. Кассиопея	2. 
В. Персей	3. 
Г. Лев	4. 



Ответ:

А	Б	В	Г

6.

Расположите астрономические величины в порядке их убывания. Запишите в таблицу получившуюся последовательность цифр ответа.

- 1) 20 сут
- 2) 300 ч
- 3) 0,6 года
- 4) 600 000 000 с

Ответ:

--	--	--	--

7.

Используя таблицу, содержащую сведения о ярких звездах, выполните задание.

Наименование звезды	Температура, К	Масса (в массах Солнца)	Радиус (в радиусах Солнца)	Созвездие, в котором находится звезда
Капелла	5 200	3	2,5	Возничий
Менкалинан (β Возничего А)	9 350	2,7	2,4	Возничий
Денеб	8 550	21	210	Лебедь
Садр	6 500	12	255	Лебедь
Бетельгейзе	3 100	20	900	Орион
Ригель	11 200	40	138	Орион
Альдебаран	3 500	5	45	Телец
Эльнат	14 000	5	4,2	Телец

Выберите **два** утверждения, которые соответствуют характеристикам звезд:

- 1) Звезды Капелла и Менкалинан относятся к одному созвездию, значит находятся на одинаковом расстоянии от Солнца.
2) Звезда Денеб является сверхгигантом.
3) Звезда Бетельгейзе относится к красным звездам спектрального класса М.
4) Звезды Альдебаран и Эльнан имеют одинаковую массу, значит они относятся к одному и тому же спектральному классу.
5) Температура на поверхности Ригеля в 2 раза ниже, чем на поверхности Солнца.

Ответ:

--	--

Ответом к заданию 8 является число. В тетради запишите номер вопроса и полученный ответ. Каждую цифру пишите в отдельной клеточке. Единицы измерения астрономических величин писать не нужно.

8.

Сколько суток продолжается полет космического аппарата до Марса, если он проходит по эллипсу, большая полуось которого равна 1, 25 а.е. Ответ округлите до целых.

Ответ: _____ сут.

Часть 3

Для ответа на задания части 3 (задания 9-10) используйте тетрадь для контрольных работ. Запишите сначала номер задания, а затем развернутый ответ на него.

Задание 9 представляет собой вопрос, на который необходимо дать письменный ответ. Полный ответ должен включать в себя не только ответ на вопрос, но и его развернутое логически связанное обоснование. При необходимости сделайте рисунок. Ответ записывайте четко и разборчиво.

9.

Какие физические процессы лежат в основе образования облаков на различных планетах?

Для задания 10 необходимо записать полное решение, которое включает запись краткого условия задачи (Дано); рисунок; запись формул, применение которых необходимо и достаточно для решения задачи; а также математические преобразования и расчеты, приводящие к числовому ответу.

10.

На Луне с Земли невооруженным взглядом можно различить объекты диаметром 200 км.

Определите, какого размера объекты будут видны на Марсе невооруженному взгляду с расстояния 10^6 км. Ответ дайте в км.

Итоговая контрольная работа по астрономии

Вариант № 4

Инструкция по выполнению работы

На выполнение контрольной работы по астрономии отводится 45 минут. Работа состоит из 3-х частей и включает 10 заданий.

Часть 1 содержит 4 задания (1–4). К каждому заданию приводится 4 варианта ответа, из которых только 1 верный. При выполнении задания части 1 в тетради для контрольных работ сделайте запись: «Часть 1», проставьте номера заданий по порядку и запишите номер выбранного ответа в контрольной работе. Если вы выбрали не тот номер, то зачеркните этот номер крестиком, а рядом поставьте номер правильного ответа.

Часть 2 включает 4 задания с кратким ответом (5–8). При выполнении заданий части 2 ответ записывается в тетради для контрольных работ. При этом делается запись: «Часть 2», проставляются номера заданий по порядку и записывается последовательность цифр ответа. В случае записи неверного ответа зачеркните его и запишите рядом новый.

Часть 3 содержит 2 задания (9–10), на которые следует дать развёрнутый ответ. Ответы на задания части 3 записываются в тетради для контрольных работ, после записи: «Часть 3». При выполнении заданий части 2 и 3 значение искомой величины следует записать в тех единицах, которые указаны в условии задания. Если такого указания нет, то значение величины следует записать в Международной системе единиц (СИ).

При вычислениях разрешается использовать непрограммируемый калькулятор.

При выполнении заданий можно пользоваться черновиком. Записи в черновике не учитываются при оценивании работы.

Советуем выполнять задания в том порядке, в котором они даны. С целью экономии времени пропускайте задание, которое не удаётся выполнить сразу, и переходите к следующему. Если после выполнения всей работы у вас останется время, то можно вернуться к пропущенным заданиям.

За каждый правильный ответ в «Части 1» дается 1 балл, в «Части 2» 1–2 балла, в «Части 3» – от 1 до 3 баллов. Баллы, полученные вами за все выполненные задания, суммируются. Максимальное количество баллов 18.

Отметка 5 ставится за более 88% выполненной работы (16–18 баллов).

Отметка 4 ставится за более 70% выполненной работы (13–15 баллов).

Отметка 3 ставится за более 55% выполненной работы (10–12 баллов).

Постарайтесь выполнить как можно больше заданий и набрать как можно большее количество баллов.

Желаем успеха!

Ниже приведены справочные данные, которые могут понадобиться вам при выполнении работы.

Наиболее важные величины, встречающиеся в астрономии	
Видимый угловой диаметр Солнца и Луны	0,5°
Продолжительность звездного года (период обращения Земли вокруг Солнца)	365 сут 5 ч 49 мин
Продолжительность синодического месяца (период изменения фаз Луны)	29,5 сут
Продолжительность звездного месяца (период обращения Луны вокруг Земли)	27,3 сут
Средний радиус Земли	6 370 км
Среднее расстояние от Земли до Луны	384 000 км
Среднее расстояние от Земли до Солнца	150 млн км
1 парсек	206265 а.е. = 3, 26 св. года = $3 \cdot 10^{13}$ км

Часть 1

К каждому из заданий 1-4 даны 4 варианта ответа, из которых только 1 правильный. Номер этого ответа запишите в тетради.

1.

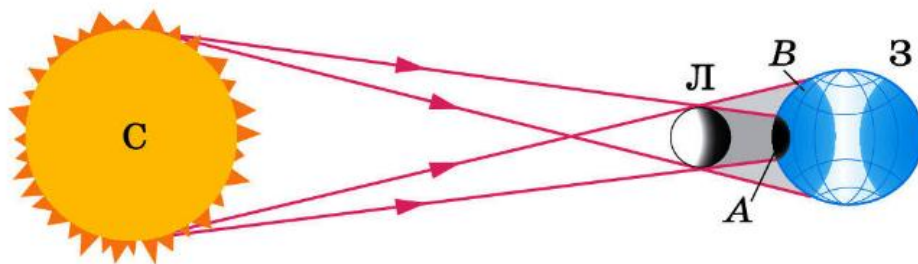
В каком созвездии находится Луна, если ее экваториальные координаты $\alpha = 20^h30^m$, $\delta = -20^\circ$?

А) Козерога
Б) Водолея

В) Коня
Г) Орла

2.

Какое явление увидит наблюдатель, находящийся в точке В на поверхности Земли?



А) Полное солнечное затмение
Б) Полное лунное затмение

В) Частное солнечное затмение
Г) Частное лунное затмение

3.

Какие звезды имеют самую низкую температуру?

А) Голубые
Б) Желтые

В) Белые
Г) Красные

4.

Где в Галактике расположена Солнечная система?

А) В центре Галактики.
Б) В ядре Галактики.
В) В основной плоскости диска Галактики, ближе к краю.
Г) В темной зоне.




Часть 2


При выполнении заданий с кратким ответом (задания 5-8) необходимо записать ответ в указанном в тексте задания месте.

Ответом к каждому из заданий 5-7 будет некоторая последовательность цифр. В тетради запишите номер вопроса и последовательность цифр – номера выбранных ответов. Каждую цифру пишите в отдельной клеточке.

5.

Установите соответствие (логическую пару). К каждому названию созвездия, отмеченному буквой, подберите соответствующее изображение, обозначенное цифрой. Запишите в таблицу выбранные цифры под соответствующими буквами.

НАЗВАНИЕ СОЗВЕЗДИЯ	ИЗОБРАЖЕНИЕ
А. Возничий	1. 
Б. Орион	2. 
В. Лира	3. 
Г. Большая Медведица	4.



Ответ:

А	Б	В	Г

6.

Расположите астрономические величины в порядке их *убывания*. Запишите в таблицу получившуюся последовательность цифр ответа.

- 1) 500 а.е.
- 2) 3 пк
- 3) $7 \cdot 10^{15}$ км
- 4) 60 св. лет

Ответ:

--	--	--	--

7.

Рассмотрите таблицу, содержащую характеристики планет Солнечной системы.

Название планеты	Диаметр в районе экватора, км	Период обращения вокруг Солнца	Период обращения вокруг оси	Вторая космическая скорость, км/с	Средняя плотность г/см^3
Меркурий	4 878	87,97 суток	58,6 суток	4,25	5,43
Венера	12 104	224,7 суток	243 суток 3 часа 50 минут	10,36	5,25
Земля	12 756	365,3 суток	23 часа 56 минут	11,18	5,52
Марс	6 794	687 суток	24 часа 37 минут	5,02	3,93
Юпитер	142 800	11 лет 314	9 часов 55,5	59,54	1,33

		суток	минут		
Сатурн	119 900	29 лет 168 суток	10 часов 40 минут	35,49	0,17
Уран	51 108	83 года 273 суток	17 часов 14 минут	21,29	1,24
Нептун	49 493	164 года 292 суток	17 часов 15 минут	23,71	1,67

Выберите **два** утверждения, которые соответствуют характеристикам планет:

- 1) Большая средняя плотность Меркурия свидетельствует о том, что на этой планете отсутствует вода.
- 2) В течение венерианского года планета не успевает совершить полный оборот вокруг своей оси.
- 3) Масса Нептуна в 2 раза больше массы Сатурна.
- 4) Первая космическая скорость вблизи Сатурна составляет примерно 25,1 км/с.
- 5) Ускорение свободного падения на Юпитере составляет 59,54 м/с².

Ответ:

Ответом к заданию 8 является число. В тетради запишите номер вопроса и полученный ответ. Каждую цифру пишите в отдельной клеточке. Единицы измерения астрономических величин писать не нужно.

8. Вычислите сидерический период обращения планеты Венера, если большая полуось ее орбиты равна 0,7 а.е. Ответ выразите в годах и округлите до десятых.

Ответ: _____ г.

Часть 3

Для ответа на задания части 3 (задания 9-10) используйте тетрадь для контрольных работ. Запишите сначала номер задания, а затем развернутый ответ на него.

Задание 9 представляет собой вопрос, на который необходимо дать письменный ответ. Полный ответ должен включать в себя не только ответ на вопрос, но и его развернутое логически связанное обоснование. При необходимости сделайте рисунок. Ответ записывайте четко и разборчиво.

9. После захода Солнца на западе видна комета. Как относительно горизонта направлен её хвост?

Для задания 10 необходимо записать полное решение, которое включает запись каткого условия задачи (Дано); рисунок; запись формул, применение которых необходимо и достаточно для решения задачи; а также математические преобразования и расчеты, приводящие к числовому ответу.

10.

Чему равен угловой диаметр Солнца, наблюдаемого с Марса? Расстояние от Марса до Солнца 1,5 а.е. Ответ запишите в угловых минутах.

Ключи:

№ вопроса	Вариант 1	Вариант 2	Вариант 3	Вариант 4
1	В	Б	В	А
2	А	Г	Г	В
3	Б	Б	А	Г
4	Г	А	Г	В
5	3412	3142	3421	1432
6	3142	2431	4312	3421
7	25 или 52	15 или 51	23 или 32	24 или 42
8	0,7	1,5	255	1,6
9	атмосфера Земли рассеивает солнечный свет	малая плотность планеты, близость к Солнцу	испарение, конденсация, конвекция,	вверх
10	44 000 км	9''	520,83 км	20'

